



NOMBRE: _____ CURSO: _____

Estimado padre de familia y estudiante:

Para realizar este plan de mejoramiento es importante que siga las instrucciones y realice cada una de las actividades propuestas, bien sea en esta hoja, hoja anexa o el cuaderno. El éxito y sustentación de este depende de su acompañamiento para que su hijo lo realice.

1. Resuelve las siguientes actividades:

7	-	2	=	
				+
				3
				=
				4
				=
				+
				1
				=
				5
				=
				+
				6
				=
				+

2. Completa las series:

65, _____, _____, _____, 70, _____

120, _____, _____, _____, _____

255, _____, _____, 258, _____

309, _____, _____, _____, _____

491, _____, _____, _____, _____

510, _____, _____, 513, _____

3. Ubica las cantidades en la casilla y resuelve.

a) 12 + 17

	D	U
+		

b) 32 + 45

	D	U
+		

c) 51 + 45

	D	U
+		

d) 47 + 21

	D	U
+		

e) 84 + 11

	D	U
+		

f) 63 + 35

	D	U
+		

g) 31 + 07

	D	U
+		

h) 18 + 61

	D	U
+		

i) 56 + 22

	D	U
+		

4. Completa en cada casilla el número que falta (antes, en medio, después)

	17		14		16		10	
9		11	18		20		13	
	19			5			18	
8		10		15		10		12
	16		12		14	7		9
17		19		13			19	

5. Ordena los números según se indica:

Menor a mayor

14 67 3 78 34 89 4 55



--	--	--	--	--	--	--	--

Mayor a menor

22 34 9 99 45 78 1 34



--	--	--	--	--	--	--	--

Menor a mayor

11 46 89 5 79 41 36 7



--	--	--	--	--	--	--	--

Mayor a menor

67 23 99 34 9 82 23 3



--	--	--	--	--	--	--	--

6. Dictado de números:

7. Une con una línea el número que forman las decenas y unidades.

	<input type="text"/>	19
	<input type="text"/>	43
	<input type="text"/>	72
	<input type="text"/>	56
	<input type="text"/>	38
	<input type="text"/>	65
	<input type="text"/>	24

8. De acuerdo con el gráfico completa las coordenadas.

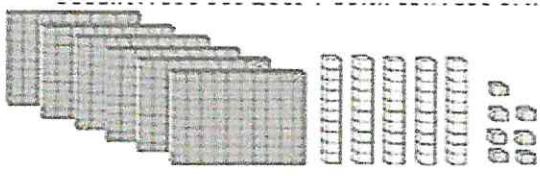
	1	2	3	4	5	6	7	8	9
A									
B									
C									
D									
E									
F									
G									
H									
I									

	(__ , __)		(__ , __)		(__ , __)
	(__ , __)		(__ , __)		(__ , __)
	(__ , __)		(__ , __)		(__ , __)
	(__ , __)		(__ , __)		(__ , __)

9. Observa y reproduce el diseño en la cuadrícula.

	→	
--	---	--

10. Determina el valor de los bloques, escribe la cantidad y realiza su descomposición.




C	D	U
6	5	7

→

C	D	U
600	50	7


657



C	D	U

→

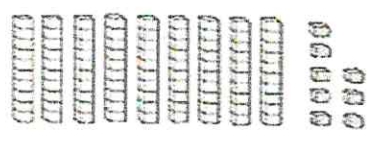
C	D	U



C	D	U

→

C	D	U



C	D	U

→

C	D	U



C	D	U

→

C	D	U

11. Ubica las cantidades en la casilla y elabora las restas:

$458 - 2133$

C	D	U

$694 - 1533$

C	D	U

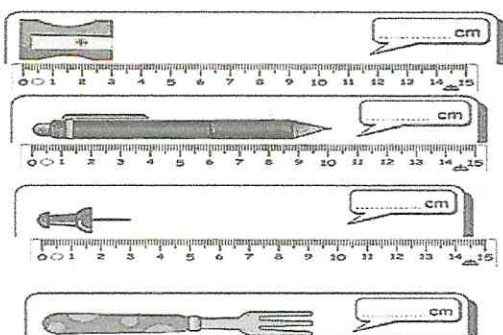
$736 - 4222$

C	D	U

$659 - 1088$

C	D	U

12.
13. Mide los siguientes elementos:



AUTOEVALUACIÓN

Indica con un , si lograse realizar todas las actividades.